
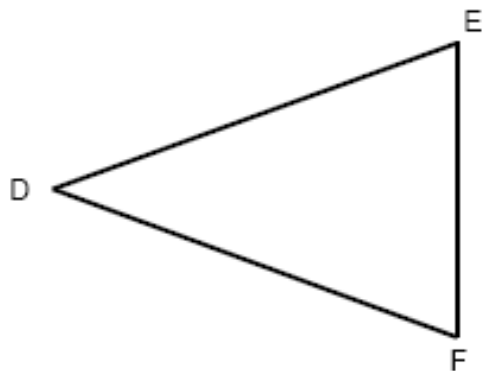


MESURER ET TRACER DES SEGMENTS

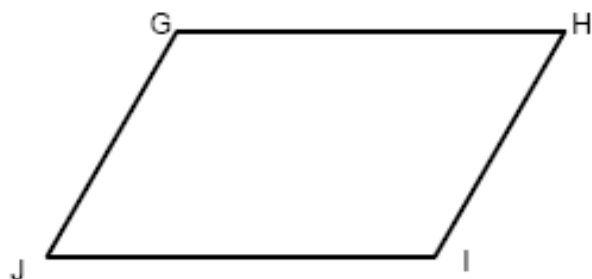
1) Mesure avec ta règle chaque segment de ces figures et écris tes réponses dans les tableaux.



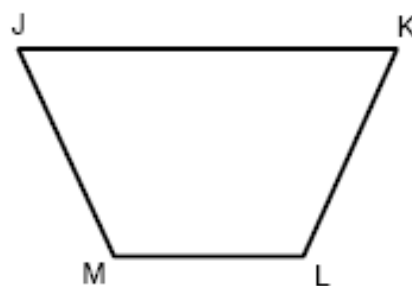
segment	mesure
AB	
BC	



segment	mesure
DE	
EF	
FD	



segment	mesure
GH	
HI	



segment	mesure
JK	
KL	
LM	